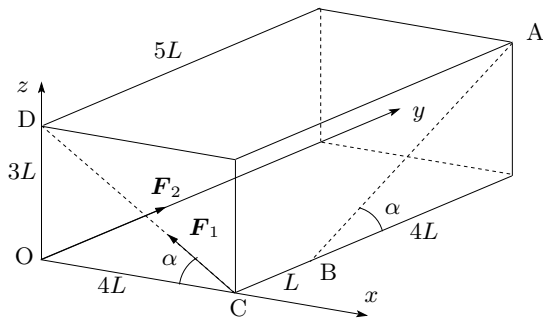


TME010 Mekanik 120412, lösningsförslag

1.



a)

$$\begin{aligned}\Sigma \mathbf{F} &= \mathbf{F}_1 + \mathbf{F}_2 = \\ &= (-F \cos \alpha, 0, F \sin \alpha) + (0, 2F, 0) = \\ &= \left(-\frac{4}{5}F, 2F, \frac{3}{5}F\right).\end{aligned}$$

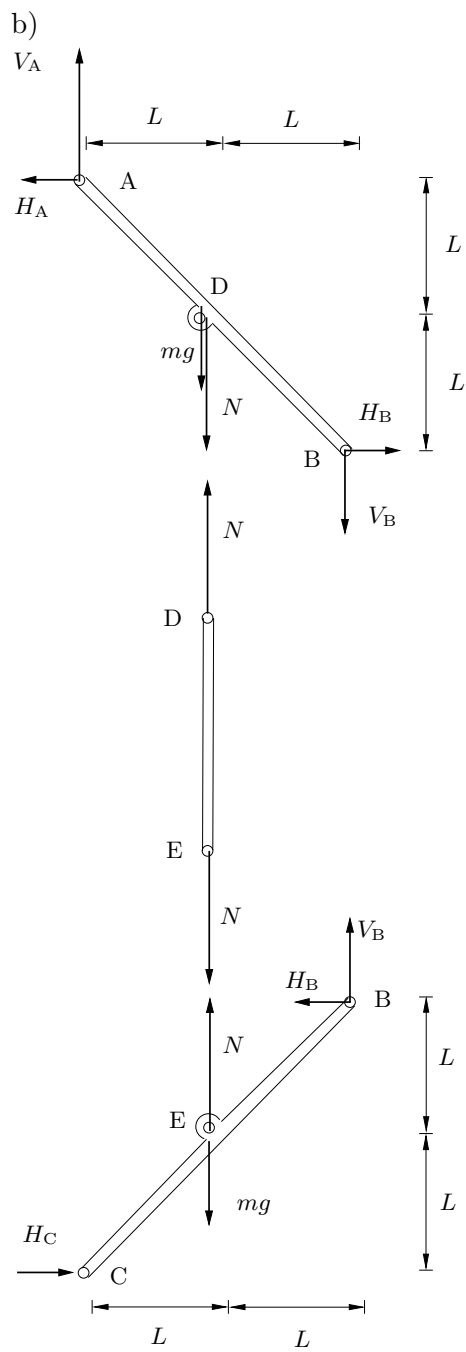
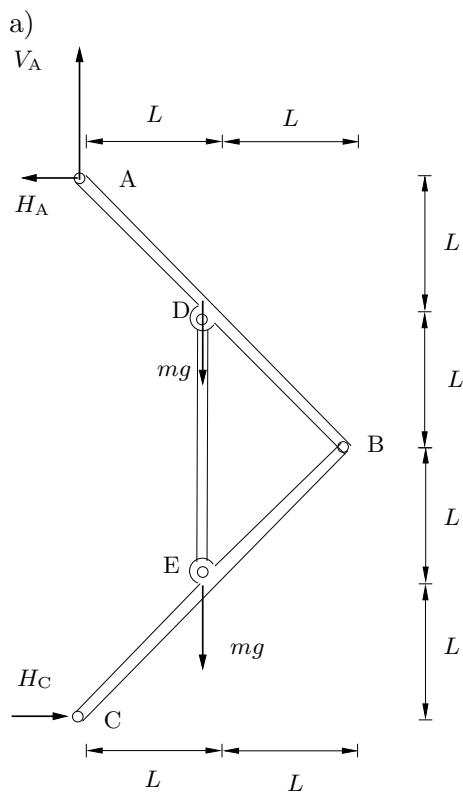
b)

$$\begin{aligned}\Sigma \mathbf{M}_A &= \overrightarrow{AC} \times \mathbf{F}_1 + \overrightarrow{AO} \times \mathbf{F}_2 = \frac{F}{5} \begin{vmatrix} \mathbf{e}_x & \mathbf{e}_y & \mathbf{e}_z \\ 0 & -5L & -3L \\ -4 & 0 & 3 \end{vmatrix} + F \begin{vmatrix} \mathbf{e}_x & \mathbf{e}_y & \mathbf{e}_z \\ -4L & -5L & -3L \\ 0 & 2 & 0 \end{vmatrix} = \\ &= \frac{FL}{5}(15, 12, -60).\end{aligned}$$

c)

$$\Sigma M_{AB} = \Sigma \mathbf{M}_A \cdot (0, -\cos \alpha, -\sin \alpha) = \frac{FL}{5}(15, 12, -60) \cdot \left(0, -\frac{4}{5}, -\frac{3}{5}\right) = \frac{132}{25}FL.$$

2.



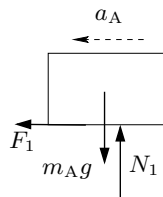
c)
Hela strukturen:

$$\hat{A} \quad 2mgL - H_C \cdot 4L = 0.$$

Stången BC:

$$\hat{B} \quad NL - mgL - H_C \cdot 2L = 0.$$

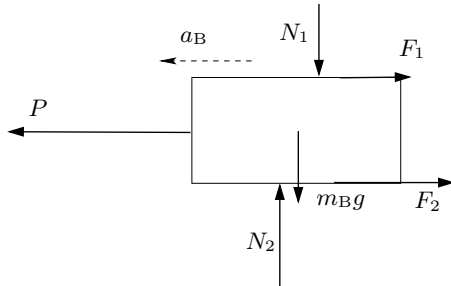
3.



Lådan A:

$$\begin{aligned} \leftarrow F_1 &= m_A a_A, \\ \uparrow N_1 - m_A g &= 0. \end{aligned}$$

Lådan B:



$$\begin{aligned} \leftarrow P - F_1 - F_2 &= m_B a_B, \\ \uparrow N_2 - N_1 - m_B g &= 0. \end{aligned}$$

Glidning i båda kontaktytorna ger att

$$\frac{F_1}{N_1} = \mu, \quad \frac{F_2}{N_2} = \mu.$$

4.

Friktionskraftens arbete är

$$W_{\text{fr}} = \Delta T + \Delta V = \frac{mv_2^2}{2} - \frac{mv_1^2}{2} - mgh.$$

5.

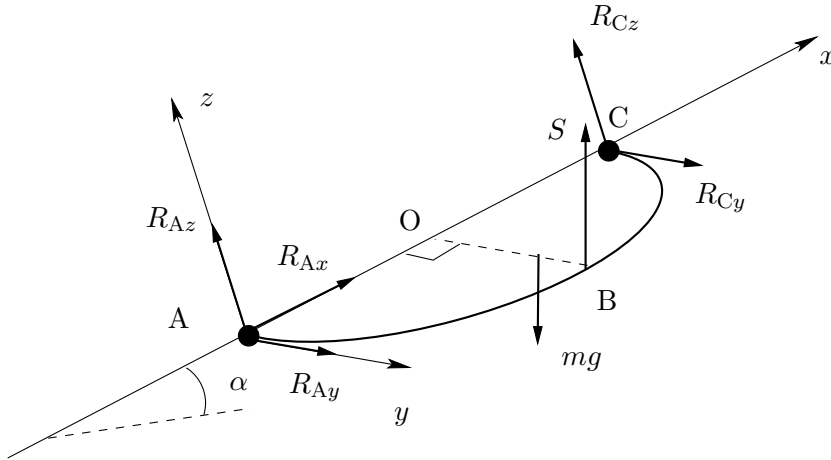
a) Ur formelsamling fås:

$$I_z = \frac{1}{2}mR^2 + \frac{2}{3}mR^2 = \frac{7}{6}mR^2.$$

b) Formelsamling och Steiners sats ger:

$$I_x = \frac{1}{4}mR^2 + \frac{1}{18}mR^2 + m\left(\frac{2}{3}R\right)^2 + \frac{5}{12}mR^2 + m\left(R + \frac{R}{2}\right)^2 = \dots = \frac{41}{12}mR^2.$$

6.



Inför ett koordinatsystem med x -axeln längs AC och y -axeln horisontell. Linkraften och tyngdkraften bildar då vinkeln α med z -axeln. Beteckna radien med R .

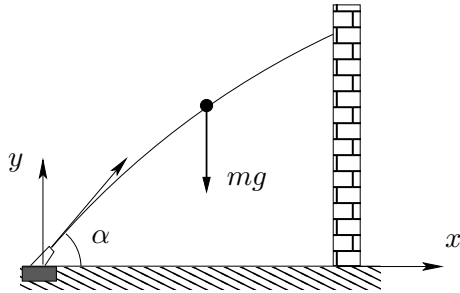
$$\begin{aligned}\Sigma F_x = 0 &\Rightarrow R_{Ax} - mg \sin \alpha + S \sin \alpha = 0, \\ \Sigma F_y = 0 &\Rightarrow R_{Ay} + R_{Cy} = 0, \\ \Sigma F_z = 0 &\Rightarrow R_{Az} + R_{Cz} - mg \cos \alpha + S \cos \alpha = 0.\end{aligned}$$

$$\begin{aligned}\Sigma \mathbf{M}_A &= \begin{vmatrix} \mathbf{e}_x & \mathbf{e}_y & \mathbf{e}_z \\ R & R & 0 \\ S \sin \alpha & 0 & S \cos \alpha \end{vmatrix} + \begin{vmatrix} \mathbf{e}_x & \mathbf{e}_y & \mathbf{e}_z \\ R & 2R/\pi & 0 \\ -mg \sin \alpha & 0 & -mg \cos \alpha \end{vmatrix} + \begin{vmatrix} \mathbf{e}_x & \mathbf{e}_y & \mathbf{e}_z \\ 2R & 0 & 0 \\ 0 & R_{Cy} & R_{Cz} \end{vmatrix} = \\ &= \left(\left(S - \frac{2}{\pi} mg \right) R \cos \alpha, (-S + mg) R \cos \alpha - 2R_{Cz}R, \left(-S + \frac{2}{\pi} mg \right) R \sin \alpha + 2R_{Cy}R \right) = 0.\end{aligned}$$

Lösning av ekvationssystemet ger:

$$R_{Ax} = \left(1 - \frac{2}{\pi} \right) mg \sin \alpha, \quad R_{Ay} = R_{Cy} = 0, \quad R_{Az} = R_{Cz} = \left(\frac{1}{2} - \frac{1}{\pi} \right) mg \cos \alpha.$$

7.



Eliminering av t ger:

$$y = -\frac{gx^2}{2v_0^2 \cos^2 \alpha} + x \tan \alpha.$$

För att bestämma utgångshastigheten v_0 utnyttjar vi att $y = 3L/4$ då $x = L$ och $\alpha = 45^\circ$:

$$\frac{3}{4}L = -\frac{gL^2}{2v_0^2 \cdot \frac{1}{2}} + L \Rightarrow v_0^2 = 4gL.$$

För godtyckligt α fås då

$$y = -\frac{L}{8 \cos^2 \alpha} + L \tan \alpha.$$

för $x = L$. Maxvärdet av y fås då

$$\frac{dy}{d\alpha} = -\frac{L \sin \alpha}{4 \cos^3 \alpha} + \frac{L}{\cos^2 \alpha} = 0 \Rightarrow \tan \alpha = 4 \Rightarrow \cos \alpha = \frac{1}{\sqrt{17}}.$$

Motsvarande höjd blir då

$$y_{\max} = -\frac{L}{8 \cdot \frac{1}{17}} + 4L = \frac{15}{8}L.$$

$$\begin{aligned} \rightarrow \quad 0 &= m\ddot{x}, \\ \uparrow \quad -mg &= m\ddot{y}. \end{aligned}$$

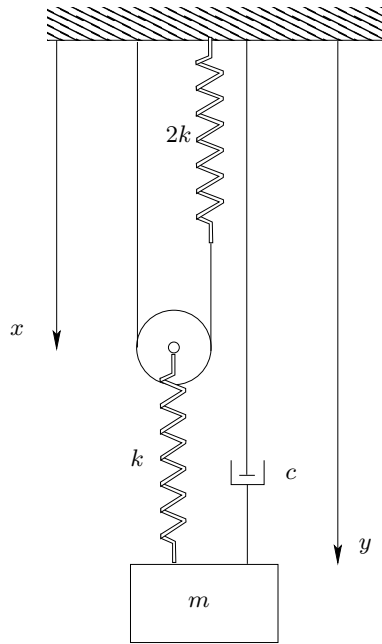
Om begynnelsehastigheten betecknas v_0 fås efter integration och användning av begynnelsevillkoren $\dot{x} = v_0 \cos \alpha$ och $\dot{y} = v_0 \sin \alpha$ för $t = 0$

$$\begin{aligned} \dot{x} &= v_0 \cos \alpha, \\ \dot{y} &= -gt + v_0 \sin \alpha. \end{aligned}$$

Ytterligare en integration ger tillsammans med begynnelsevillkoren $x = y = 0$ för $t = 0$

$$\begin{aligned} x &= v_0 t \cos \alpha, \\ y &= -\frac{gt^2}{2} + v_0 t \sin \alpha. \end{aligned}$$

8.



Övre fjäderns längd är $2x - L$, där L är linans längd. Fjäderkraften är då $2k(2x - L - b_1)$, där b_1 är fjäderns ospända längd. Den undre fjädern har längden $y - x$ och fjäderkraften $k(y - x - b_2)$, där b_2 är den naturliga längden. Trissan:

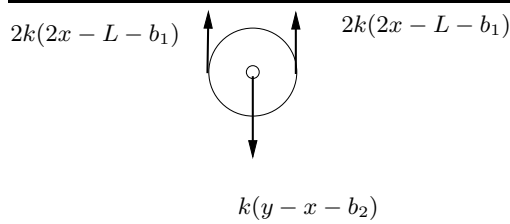
$$\uparrow 4k(2x - L - b_1) - k(y - x - b_2) = 0.$$

Undre kroppen:

$$\downarrow mg - k(y - x - b_2) - cy = m\ddot{y}.$$

Den första ekvationen ger att

$$x = \frac{y}{9} + \text{konstant}.$$



Insättning i den andra ekvationen ger efter förenkling

$$\ddot{y} + \frac{c}{m}\dot{y} + \frac{8k}{9m}y = \text{konstant}.$$

Karakteristiska ekvationen har rötterna

$$\lambda_{1,2} = -\frac{c}{2m} \pm \sqrt{\left(\frac{c}{2m}\right)^2 - \frac{8k}{9m}}.$$

Kritisk dämpning fås då uttrycket under rotmärket är noll, vilket ger

$$c = \frac{1}{3}\sqrt{32km}.$$

