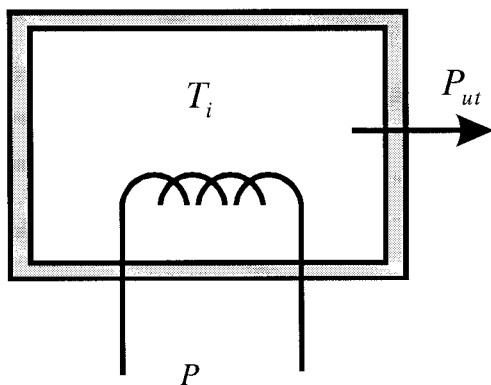


1. Skissa stegsvaret för överföringsfunktionen $G(s) = \frac{4}{s(4+8s)} e^{-2s}$. (2)

2. Betrakta nedanstående elektriskt uppvärmda ugn med ineffekt P och värmeförlust P_{ut} . T_i och T_{ut} betecknar temperaturen i ugnen och uttemperaturen. Lägg märke till att värmeförlusten beror olinjärt på temperaturen. Anta att den inneslutna luftens V, ρ och värmekapacitivitet c är kända.



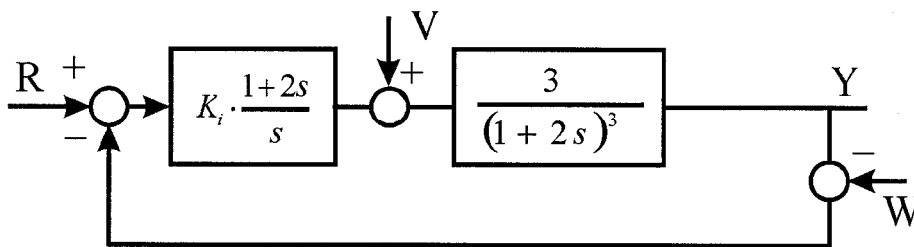
$$P_{ut} = k(T_i - T_{ut})^2$$

- a. Linjärisera värmeförlusten kring den stationära arbetspunkten där $P = P_0$ och $T_{ut} = T_0$. OBS: Det räcker att ange arbetspunkten för $T_i, T_{i,0}$, som en funktion. Inför för beräkningarna i uppgift b följande beteckningar för den linjäriserade värmeförlusten: $\Delta P_{ut} = k_1 \Delta T_i + k_2 \Delta T_{ut}$. (4)
- b. Bestäm den linjära överföringsfunktionen $G(s) = \frac{T_i(s)}{P(s)}$. (2)
3. I slutet av tentatesen hittar du den asymptotiska amplitudkurvan för en industriell process som även innehåller en död tid av uppskattningsvis 0.3 sekunder.
- a. Bestäm processens överföringsfunktion samt rita in dess fas- och amplitudkurva (glöm inte dödtiden!) i Bodediagrammet. (3)
- b. Bestäm P-regulatorn som ger det reglerade systemet en amplitudmarginal av $A_m = 2,5$ ggr. (2)
- c. Robusthetsanalys: Hur stor får den verkliga dödtiden i processen maximalt vara (vi har dimensionerat P-regulatorn under antagandet att dödtiden är 0,3 sekunder) för att systemet ska ha en garanterad amplitudmarginal av $A_m = 2$ ggr? (2)
- (GLÖM INTE ATT SKICKA MED BODEDIAGRAMMET!)

4. Ett servosystem med överföringsfunktion $G(s) = \frac{1}{s \cdot (s+8)^2}$ ska regleras så att kvarstående fel efter stegstörning $e_v = 0$, fasmarginalen $\varphi_m \approx 50^\circ$ vid $\omega_c = 0.3 \cdot \omega_{\pi,proc}$ ($\omega_{\pi,proc}$ betecknar servosystemets ω_π). Dimensionera en lämplig regulator. (5)

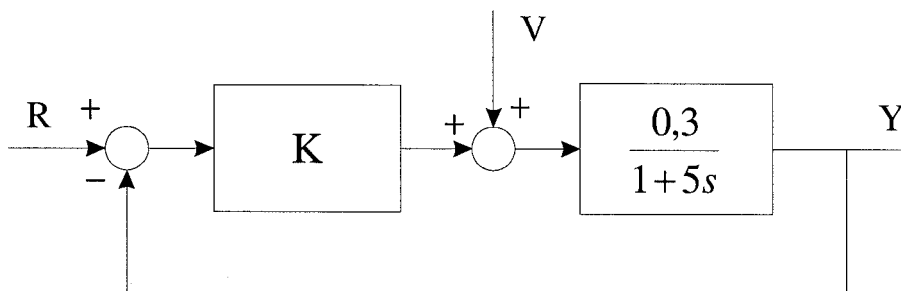
Hur skulle du principiellt modifiera regulatorn för att få en snabbare respons på börvärdesändringar? (1)

5. En process ska regleras med hjälp av en PI-regulator, där T_i redan har valts för att förkorta en av processens tidskonstanter.



- a. I vilket intervall måste K_i väljas för att få en amplitudmarginal $2 \leq A_m \leq 3$? (3)
- b. Med relevanta K_i från uppgift a, vilket av dessa K_i ger minsta kvarstående fel vid en stegformad störning $v(t) = \sigma(t)$? (2)

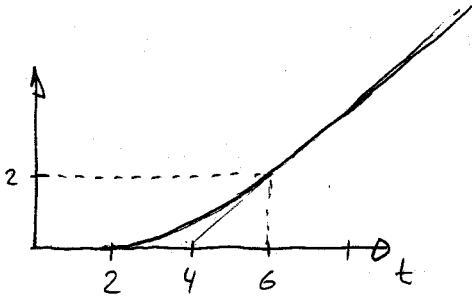
6. Nedanstående reglersystem utsätts för en sinusformade nätbrum vid börvärdesgenerering med en frekvens av 50 Hz och en amplitud av 0,3 enheter. Vad blir den stationära utsignalen $y(t) = ?$ då regulatorn väljs till $K = 200$? (4)



Tentamen Regler

$$1) G(s) = \frac{1}{s(1+2s)} e^{-2s}$$

steg svar : integration med tidskonstant
+ död tid



$$2) a) \rho V c \dot{T}_i = P - k(T_i - T_{ut})^2$$

$$AP: 0 = P - k(T_i - T_{ut})^2 \quad \text{då} \quad P = P_0$$

$$T_{ut} = T_0$$

$$T_i = T_{i,0}$$

$$P_0 - k(T_{i,0}^2 - 2T_{i,0}T_0 + T_0^2) = 0$$

$$\rightarrow T_{i,0}$$

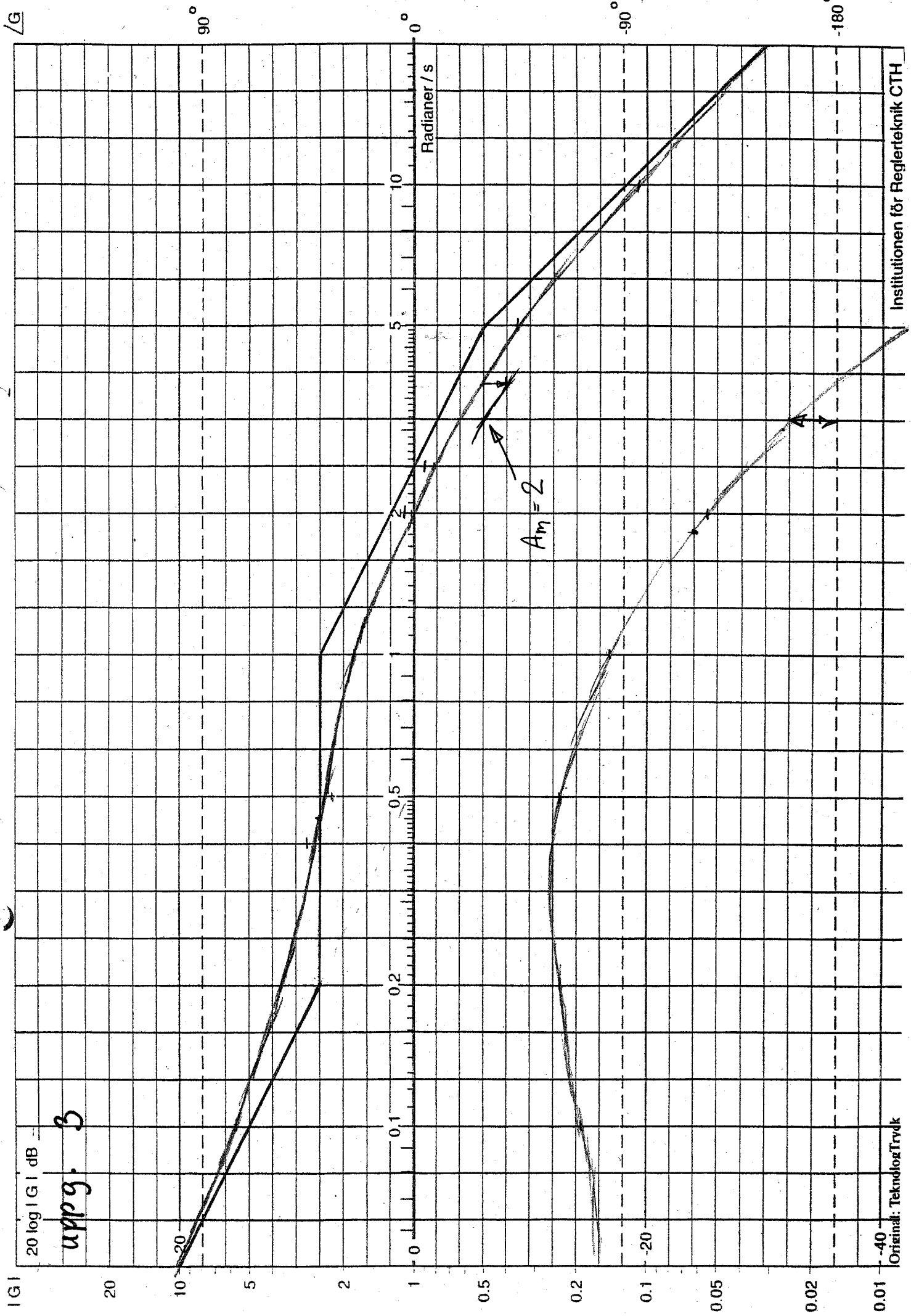
$$\text{linjärisering: } P_{ut} = k(T_i - T_{ut})^2 = f(T_i, T_{ut})$$

$$\Delta P_{ut} = \left. \frac{\partial f}{\partial T_i} \right|_{AP} \Delta T_i + \left. \frac{\partial f}{\partial T_{ut}} \right|_{AP} \Delta T_{ut} =$$

$$= \underbrace{2k(T_{i,0} - T_0)}_{k_1} \Delta T_i + \underbrace{2k(T_{i,0} - T_0)(-1)}_{k_2} \Delta T_{ut}$$

$$\rho V c \dot{T}_i = P - k_1 \Delta T_i - k_2 \Delta T_{ut}$$

$$b) G(s) = \frac{T_i(s)}{P(s)} = \frac{1}{\rho V c s + k_1}$$



uppg. 3

$$3. \quad a) \quad G(s) = \frac{0,5 (1 + 5s)}{s (1+s) (1+0,2s)}$$

$$\varphi_G(\omega) = -90 - \text{atan} \omega - \text{atan} 0,2\omega + \text{atan} 5\omega - 0,3\omega \frac{180}{\pi}$$

$$b) \quad A_m = 2,5 \Rightarrow F_p(s) = -2,2 \text{ dB} - 0,78$$

$$c) \quad A_m = 2 \Rightarrow \text{kan sänka fäsen med } 20^\circ \text{ vid } \omega = 3,2 \text{ s}^{-1}$$

detta motsvaras en extra död tid ΔT_d

$$- \Delta T_d \omega \frac{180}{\pi} = -20^\circ$$

$$\Delta T_d = 0,11$$

$$\rightarrow \text{tillåten död tid: } T_{d, \max} = 0,3 + \Delta T_d = 0,41 \text{ sek}$$

$$4. \quad G(s) = \frac{1/64}{s (1 + \frac{1}{8} s)^2}$$

$$\omega_{H, \text{proc}} : \varphi_m = -90^\circ - 2 \text{atan} \frac{1}{8} \omega_{H, \text{proc}} = -180^\circ$$

$$\omega_{H, \text{proc}} = 8 \text{ rad/sek}$$

$$\omega_c = 2,4 \text{ rad/sek}$$

$$e_v = 0 \Rightarrow \text{PI-regulator}$$

$$\varphi_G(\omega_c) = -90 - 2 \text{atan} \frac{2,4}{8} = -123,4^\circ$$

$$\Rightarrow \varphi_F(\omega_c) = -6,6^\circ \text{ för att åstadkomma } \varphi_m = 50^\circ$$

$$T_i \omega_c \approx 7,5 \Rightarrow T_i = 3,125 \text{ (diagram)}$$

$$K_i |G(j\omega_c)| / \omega_c \approx 0,12 \text{ (diagram)}$$

$$|G(j\omega_c)| = \frac{1/64}{\omega_c (1 + \frac{\omega_c^2}{64})} = 0,00597 \approx 0,006$$

$$\rightarrow K_i = \frac{0,12 \cdot \omega_c}{0,006} = 48$$

$$F_{PI} = 48 \cdot \frac{1 + 3,125s}{s}$$

$$5.0) L = \frac{3K_i}{s(1+2s)^2}$$

$$\text{kor etw. } 4s^3 + 4s^2 + s + 3K_i = 0$$

$$\begin{array}{r} \text{R-H: } \\ s^3 \quad 4 \quad 1 \\ s^2 \quad 4 \quad 3K_i \\ s^1 \quad \frac{4-12K_i}{4} \quad 0 \\ s^0 \quad 3K_i \end{array}$$

$$K_i \geq 0$$

$$1 - 3K_i \geq 0$$

$$K_i \leq \frac{1}{3}$$

$$2 \leq A_m \leq 3 \Rightarrow \frac{1}{9} \leq K_i \leq \frac{1}{6}$$

$$b) e_v = \lim_{s \rightarrow 0} s \cdot G_{ve} \cdot V(s)$$

$$G_{ve}(s) = \frac{\frac{3}{(1+2s)^3}}{1 + \frac{3K_i}{s(1+2s)^2}} = \frac{-3s}{s(1+2s)^3 + 3K_i(1+2s)}$$

$$e_v = \lim_{s \rightarrow 0} s \cdot \left(\frac{-3s}{s(1+2s)^3 + 3K_i(1+2s)} \right) \cdot \frac{1}{s} = 0 \quad \begin{array}{l} \text{oberoende} \\ \text{av } K_i \end{array}$$

m. Allt: PI regulator ger inget konst. fel efter
stepstörning

$$6. \quad \frac{Y}{R} = \frac{0,3 K}{1 + 0,3K + 5s} \quad K = 200$$

$$\frac{Y}{R} = \frac{60}{1 + 60 + 5s} = \frac{60}{5s + 61}$$

$$\left| \frac{Y}{R} \right| = \frac{60}{\sqrt{61^2 + 25(100\pi)^2}} = 0,038$$

fasförskjutning: $-\arctan \frac{5 \cdot 100\pi}{61} = -87,8^\circ$

$$y_{ut} = \underbrace{0,3 \cdot 0,038}_{0,0114} \sin \left(100\pi t - 87,8^\circ \frac{\pi}{180} \right)$$

$$\uparrow \\ \text{rad: } 1,53$$